

مدرسة خزون
السنة الأولى


تقييم مكتسبات التلاميذ
في الرياضيات
الثلاثي الأول

الاسم:.....
اللقب:.....

التمرين الأول : أضع العلامة(*) تحت صورة كل حيوان رأته سلمى


مع

التمرين الثاني :
1.2 أحيط بخط مغلق مجموعة القطط.
2.2 أربط مجموعة القطط باللائحة المناسبة.
3.2 ألون الخروف الذي أمام سلمى.


مع

مع

مع


التمرين الثالث :
1.3 أحيط مجموعة الأرانب بخط مغلق
2.3 أربط المجموعة باللائحة المناسبة.
3.3 ألون الشجرة التي على يمين مراد


مع


مع

مع


- التمرين الرابع : 1.4 أحيط مجموعة الرمان بخط مغلق.
 2.4 أربط مجموعة الرمان باللافتة المناسبة.
 3.4 ألون الفراشة التي هي وراء الأرنب .
 4.4 أضع العلامة (*) تحت صور الغلال التي لا تحبها سلمى

	<input type="checkbox"/>	مع
	<input type="checkbox"/>	مع
	<input type="checkbox"/>	مع
	<input type="checkbox"/>	مع

التمرين الخامس : أضع العلامة (*) تحت صور الحيوانات التي رفرفت فوق سلمى .

	<input type="checkbox"/>	مع
---	--------------------------	----

التمرين السادس: أصنف الحيوانات حسب خاصية أختارها.

	<input type="checkbox"/>	مع 5
--	--------------------------	------

جدول إسناد الأعداد

معيير التميز	معايير الحد الأدنى				مستويات التملك
	مع	مع	مع	مع	
مع	0	0	0	0	انعدام التملك -
0	1.5	1.5	1	1	دون التملك الأدنى +
2	3	3	2	2	التملك الأدنى++
5	4.5	4.5	3	3	التملك الأقصى +++

