

الاسم واللقب

.....

اختبار الثلاثي الأول
رياضيات
السنة الأولى ج

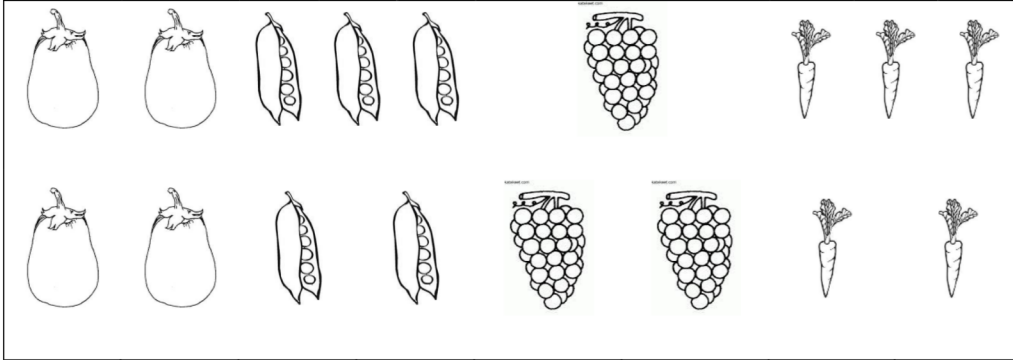


مع 4
لـ لـ لـ

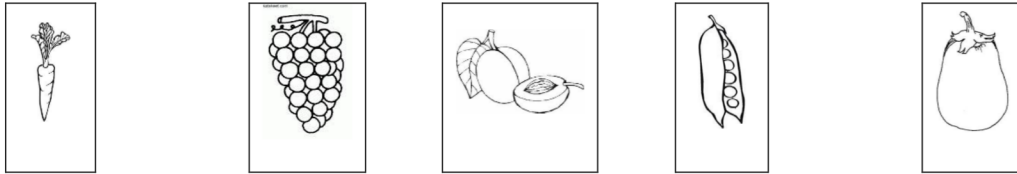
السند 1 (جلس معلمتنا يوما لتقص علينا قصة :
التعليمة 1-1 : ألون الولد الذي يجلس على يسار المعلمة :
التعليمة 2-1 : أحيط بخط مغلق النجمة التي توجد فوق المعلمة :
التعليمة 3-1 : أضع علامة x تحت الولد الذي يجلس على يمين رامي



السند 2 (ذهبت مع والدي إلى واشترينا خضرا و غلالا :



مع 1
لـ لـ لـ



التعليمة 1-2 : أكّون مجموعات جزئية حسب النوع .

التعليمة 2-2 : أربط كل مجموعة برمزها .

إلى ما



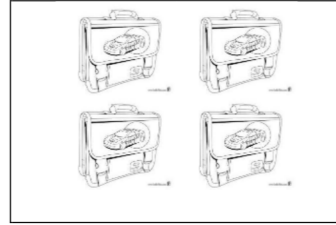

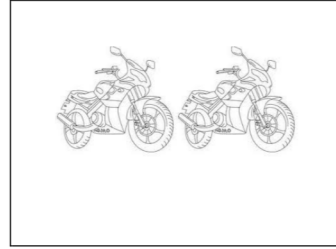

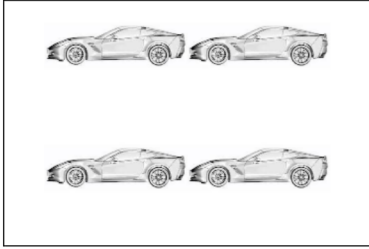
لا ينتمي

ينتمي

التعليمة 3-2 : أشطب الخطأ : المشمش

شراه رامي ووالده .

السند 3) لعب رامي مع أخنه اللعبة التالية :

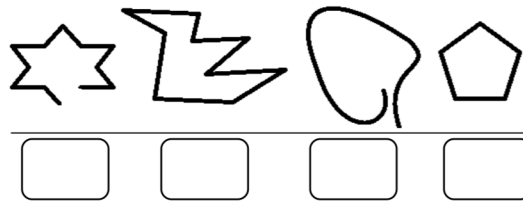


مع 5
لأ

التعليمة 1-3 : أربط كل مجموعة باليد المناسبة :

السند 4) شري رامي قميصا رسمت عليه خطوطا جميلة :

التعليمة 1-4 : أضع علامة x تحت كل خط مفتوح



مع 4
لأ