



www.enajah.tn

النجاح و التميز

إمتحان الثلاثي الثالث في الإيقاظ العلمي

الإيقاظ العلمي

السنة الأولى

❖ السند 1: في العطلة الصيفية ذهب وحيد مع أصدقاءه إلى البحر للعب و السباحة:

● التعليم 1:

1-1 : أضع علامة (x) تحت وسيلة النقل التي تقضي مدة زمنية أطول للوصول إلى البحر.



❖ السند 2: عند الوصول قرر الأصدقاء تنظيف الشاطئ و جمع الفضلات المتناثرة هنا و هناك في نقالة.

النجاح و التميز

● التعليم 2:

1-2 : أكتب "دفع" أو "جذب" :



.....


❖ السند 3: بينما كان الأصدقاء ينظفون الشاطئ وجدوا فراخا صغيرة صفراء فقدموا لها طعاما ثم أخذ وحيد فرخا و وضعه في علبة:

• التعليمة 3:

1-3: أحيط بخط مغلق ما تأكله الفراخ:



2-3: أرتب بوضع الأرقام (1-2-3-4) مراحل نمو الفرخ من الأصغر إلى الأكبر:



3-3: أربط بما يناسب :

• تتغذى جيدا

• الفراخ تنمو لأنها


• لا تتغذى باستمرار

3-4: أشطب الخطأ :

- الفرخ يعيش داخل العلبة لأنه يتنفس.
- الفرخ يموت داخل العلبة لأنه لا يتنفس.

❖ السند 4: بعد تنظيف الشاطئ أخذ وحيد يستحم في البحر فوجد بعض الحيوانات فقرار أن يأخذ صنارته و يصطاد.

• التعليمة 4:



1-4: ألون الحيوانات التي تعيش في الماء فقط.

2-4: أحيط بخط مغلق الحيوانات التي تطير.

3-4: أضع علامة تحت أثقل حيوان.

4-4: أشطب الخطأ:

- وحيد يدفع الخيط عندما يرمي الصنارة في البحر.

- وحيد يدفع الخيط عندما تعلق به سمكة.

4-5: أكتب:- "تطير" أو "تسبح".

- "أجنحة" أو "زعانف".

■ السمكة في البحر لأن لها

❖ السند 5: إصطاد وحيد سمكة صغيرة و وضعها أمامه على الشاطئ.

• **التعليلة 5**:


1-5: أربط بما يناسب :

• تتنفس في البر و الماء

- السمكة تموت خارج الماء لأنها •

• تتنفس في الماء فقط

2-5: أحيط بخط مغلق كل حيوان يعيش في البر و الماء :



www.enajah.tn

النجاح و التميز