



www.enajah.tn

النجاح و التميز

إمتحان الثلاثي الثالث في الإيقاظ العلمي

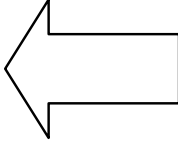
الإيقاظ العلمي

السنة الأولى

❖ التمرين 1: أكمل الفراغات بكتابة أيام الأسبوع الناقصة:

الأربعاء - الأحد - الجمعة - الإثنين - الخميس - الثلاثاء - السبت

.....	الثلاثاء	الجمعة
-------	-------	----------	-------	-------	-------	--------



أول أيام الأسبوع

www.enajah.tn

النجاح و التميز

❖ التمرين 2: أكتب "نعم" أو "لا":

• يتكون اليوم من نهارين و ليل.

• نتناول وجبة الغذاء في الليل.



• تنزل الأمطار في الليل و في النهار.

• تعمل الساعة في النهار.

❖ التمرين 3: أربط بسهم بين التوقيت و الساعة الموافقة له:

الساعة الثانية عشر صباحا

الساعة السابعة صباحا



الساعة التاسعة ليلا

الساعة السابعة مساء

❖ التمرين 4: أضع علامة (X) أمام كل إجابة صحيحة:

• الأجزاء الموسمية للنبتة هي:

الجزور الساق الأوراق الأزهار

• تتحول الزهرة إلى:

ورقة بذرة ثمرة نبتة





• لا تحتاج النبتة إلى:

الكيس الماء الشمس السماد

• الجزء الذي يؤكل في نبتة الفول:


الساق البذور الجذور الثمار

❖ التمرين 5: أكمل بالكلمات التالية:



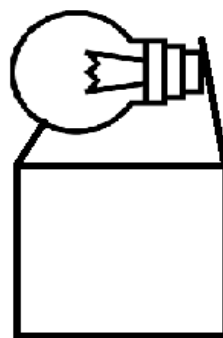
			
بذرة	ثمار	أزهارا	نبتة

نزرع فتنمو و تصبح
فتعطي تتحول إلى

❖ التمرين 6: أحيط بخط مغلق كل تصرف يمثل خطرا على الجسم:



❖ التمرين 7: أكتب "يضيء" أو "لا يضيء" تحت كل صورة:

		
.....