

إمتحان الثلاثي الأول في الإيقاظ العلمي

الوضعية 1 : (3ن) أجب ب " صحيح " أو " خطأ " أمام كل عبارة

- التنفس غير ضروري للحياة .
- الحلويات تقوي جسم الإنسان
- يمتص النبات الأخضر الماء بواسطة جذوره
- يذبل النبات الأخضر إذا خرجت جذوره فوق سطح الأرض
- ينمو النبات الأخضر في المياه المالحة جدا.
- التنفس هو عملية دخول الهواء إلى الجسم و خروجه

الوضعية 2: (2.5ن) املأ الفراغ بما يناسب (جذوره - فيزداد - الوسط - أجزائه - ينمو

يمتص النبات الأخضر الماء من الذي يعيش فيه بواسطة

و يتوزع إلى كامل (

-جسمي..... باستمرار، وتحدث عليه تغيرات كثيرة.....وزني وتطول قامتي.

الوضعية 3: (1ن) لون العبارات الصحيحة .

الماء المناسب لسقي النبات الأخضر هو :

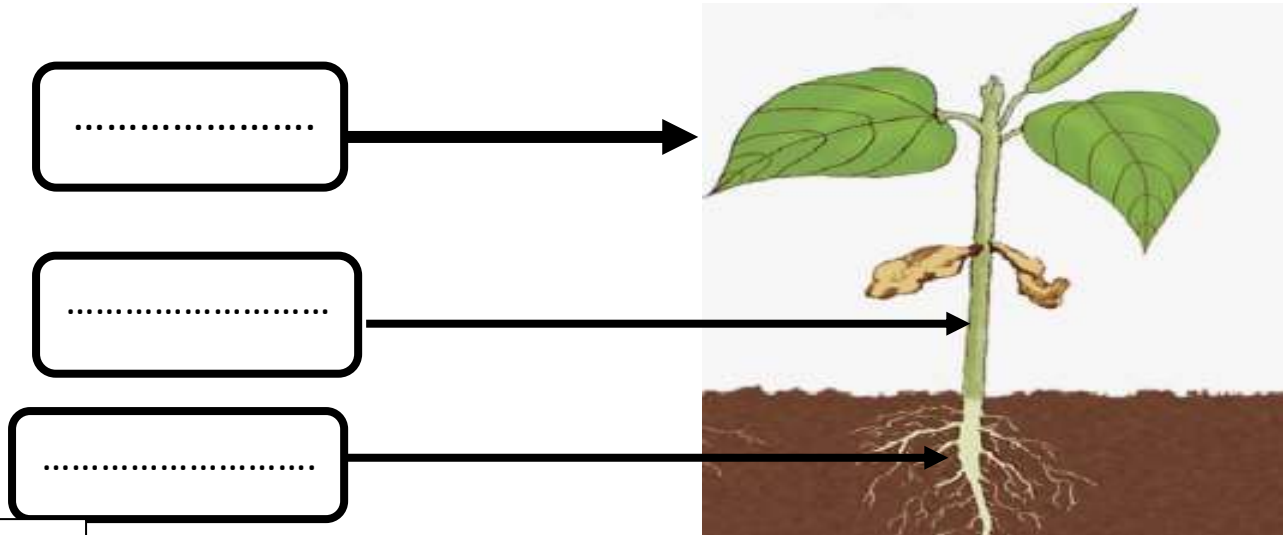
<input type="text"/>	<input type="text"/>	<input type="text"/>	<input type="text"/>
----------------------	----------------------	----------------------	----------------------

الوضعية 4: (1.5) أضع علامة (X) تحت الصورة التي تمثل وجود هواء ملوث



الوضعية الإدماجية : (2ن)

- في بداية عطلة الربيع غرس خالد بذور الفاصولياء، أما مريم فغrst بذور القمح .
- بعد عدة أيام نمت بذور الفاصولياء التي زرعها خالد ، أما بذور القمح التي زرعها مريم لم تنم ، لأنها ذهبت لقضاء عطلتها عند خالتها في الصحراء .
- ✚ نمت بذور الفاصولياء لأن خالد بها .
✚ لم تنم بذور القمح لأن مريم لم بها .
- في الأسبوع الثالث لاحظ خالد ظهور أجزاء النبات. المتمثلة في الشكل التالي :
اكمل البيانات المتمثلة في أجزاء النبات الأخضر :



إصلاح إمتحان الثلاثي الأول في الإيقاظ العلمي

الوضعية 1 : (3ن) أجب ب " صحيح " أو " خطأ " أمام كل عبارة

- خطأ. التنفس غير ضروري للحياة .
- خطأ الحلويات تقوي جسم الإنسان
- صحيح يمتص النبات الأخضر الماء بواسطة جذوره
- صحيح يذبل النبات الأخضر إذا خرجت جذوره فوق سطح الأرض
- خطأ ينمو النبات الأخضر في المياه المالحة جدا.
- صحيح التنفس هو دخول الهواء إلى الجسم و خروجه

الوضعية 2: (2.5ن) املأ الفراغ بما يناسب (جذوره - فيزداد - الوسط - أجزائه - ينمو)

- يمتص النبات الأخضر الماء من الوسط. الذي يعيش فيه بواسطة جذوره
و يتوزع إلى كامل أجزئه

- جسمي ينمو باستمرار، وتحدث عليه تغيرات كثيرة فيزداد. وزني وتطول قامتي.

الوضعية 3: (1ن) لون العبارات الصحيحة .

الماء المناسب لسقي النبات الأخضر هو :

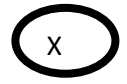
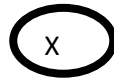
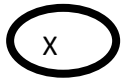
ماء الحنفيات

الماء الملوث

ماء البحر

ماء الأنهار

الوضعية 4: (1.5) أضع علامة (X) تحت الصورة التي تمثل وجود هواء ملوث



الوضعية الإدماجية : (2ن)

- في بداية عطلة الربيع غرس خالد بذور الفاصولياء، أما مريم فغرست بذور القمح .
 - بعد عدة أيام نمت بذور الفاصولياء التي زرعها خالد ، أما بذور القمح التي زرعها مريم لم تنم ، لأنها ذهبت لقضاء عطلتها عند خالتها في الصحراء .
 + نمت بذور الفاصولياء لأن خالد اعتنى بها .
 + لم تنم بذور القمح لأن مريم لم تعتن بها .
 - في الأسبوع الثالث لاحظ خالد ظهور أجزاء النبات. المتمثلة في الشكل التالي :
 اكمل البيانات المتمثلة في أجزاء النبات الأخضر :

