

المدرسة الابتدائية الإصلاح	تقييم مكتسبات التلاميذ في الرياضيات الملف 1 عدد ( الفضاء )	الدرجة: الأولى السنة: الأولى
الاسم و اللقب: .....		العدد المسند: .....

اِحْتَفَاتٌ كَرِيمَةٌ بِعِيدِ مِيلَادِهَا فَجَاءَهَا أَصْدِقَاؤُهَا وَحَمَلُوا مَعَهُمُ الْهَدَايَا.

التعليمة 1 عدد

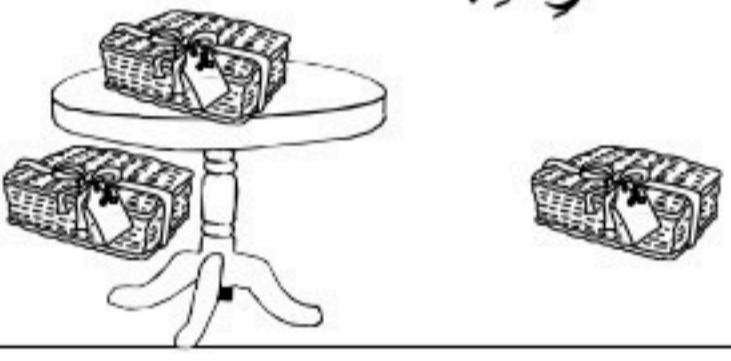


قَدِمَ الْأَرْنَبُ وَ السُّلْحَفَاةُ وَ الْقِطَّةُ.  
\* قَفَزَ الْأَرْنَبُ فَوْقَ الطَّاوِلَةِ.  
\* وَقَفَتِ السُّلْحَفَاةُ تَحْتَ الطَّاوِلَةِ.  
\* أَمَّا الْقِطَّةُ فَوَقَفَتْ عَلَى يَسَارِ كَرِيمَةَ.  
أَرْسَمُ كُلَّ حَيَوَانٍ فِي الْمَكَانِ الْمُنَاسِبِ لَهُ.

مع 1

التعليمة 2 عدد


وَضَعَ الْأَرْنَبُ هَدِيَّتَهُ فَوْقَ الطَّاوِلَةِ. أَمَّا السُّلْحَفَاةُ فَوَضَعَتْهَا تَحْتَ الطَّاوِلَةِ.  
\* أَلَوْنُ بِالْأَحْمَرِ هَدِيَّةَ الْأَرْنَبِ.  
\* أَضَعُ هَدِيَّةَ السُّلْحَفَاةِ دَاخِلَ خَطِّ مُغْلَقٍ.



مع 4 أ  
مع 4 ب

التعليمة 3 عدد

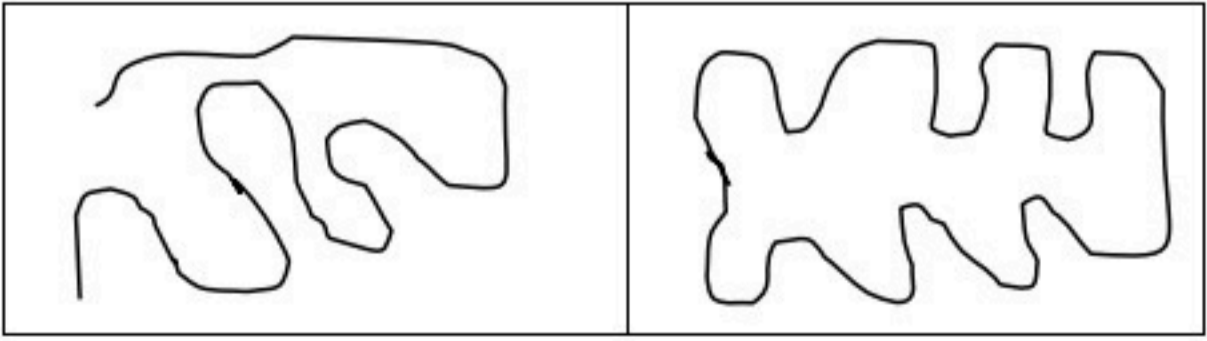
دَخَلَتِ الْأُمُّ وَقَدْ حَمَلَتْ مَعَهَا كَعْكَةً شَهِيَّةً وَوَضَعَتْهَا فَوْقَ الطَّاوِلَةِ بِجَانِبِ الْهَدَايَا.  
\* أَبْحَثُ عَنِ الْكَعْكَةِ وَالْوَنُهَا.



مع 4 أ

التعليمة 4 عدد

بَعْدَ الْإِنْتِهَاءِ مِنْ عِيدِ الْمِيلَادِ خَرَجَتْ كَرِيمَةُ مَعَ أَصْدِقَائِهَا إِلَى الْحَدِيقَةِ لِلْعِبِّ. فَرَسَمُوا خَطًّا مُغْلَقًا.  
\* أَضَعُ عَلَامَةً (X) تَحْتَ الْخَطِّ الْمُغْلَقِ.



مع 4 ب

أَغْمَضَتْ كَرِيمَةً عَيْنَيْهَا وَبَقِيَتْ دَاخِلَ الْخَطِّ الْمَغْلُقِ أَمَّا أَصْدِقَاؤُهَا فَقَدْ اخْتَبَوْا.

- اخْتَبَأَ الْأَرْنَبُ تَحْتَ الزَّهْرَةِ.
  - اخْتَبَأَتِ السُّلْحَفَاءُ بِجَانِبِ الْمَنْزِلِ.
  - أَمَّا الْقِطُّ فَقَدْ اخْتَبَأَ فَوْقَ الشَّجَرَةِ.
- \* أَضَعُ عَلَامَةً (x) لِأَحَدِ مَكَانِ الْأَرْنَبِ.




مع4

التعليمة 5 حد

بَعْدَ الْإِنْتِهَاءِ مِنَ اللَّعِبِ قَطَفَ الْأَطْفَالُ مَجْمُوعَةً مِنَ الزُّهُورِ ثُمَّ جَلَسُوا عَلَى الْعُشْبِ وَكَوَّنُوا بِهَا خَطًّا مَفْتُوحًا!

\* أَبْحَثُ عَنِ الْخَطِّ الْمَفْتُوحِ وَأَلْوَنُهُ بِالْأَحْمَرِ.

مع4



التعليمة 6 حد

أَضَعُ نَفْسِي مَكَانَ الْأَصْدِقَاءِ ثُمَّ أَرْسُمُ خَطًّا مَفْتُوحًا عَلَى يَسَارِي وَخَطًّا مُغْلَقًا عَلَى يَمِينِي.

مع5

--	--

www.enajah.tn

جدول إسناد الأعداد

التميز	معايير الحد الأدنى			
	مع4	مع4	مع1	
مع5	0	0	0	انعدام التملك (---)
2.5	1.5	2	1.5	دون التملك الأدنى (+--)
2.5	3	4	3	التملك الأدنى (++-)
5	4.5	6	4.5	التملك الأقصى (+++)