

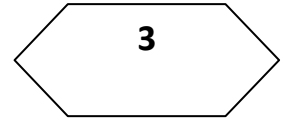
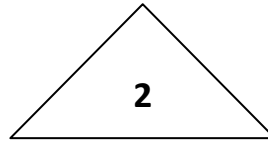
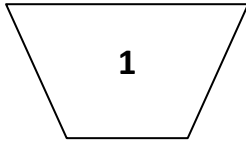
تمارين في مادة الرياضيات

1 - أرتب الأعداد من الأصغر إلى الأكبر :

. 189 ، 420 ، 376 ، 398 ، 490

.. < .. < .. < .. < ..

2 - أتم الجدول :



3	2	1	الشكل
.	.	.	عدد الرؤوس
.	.	.	عدد الأضلاع

3 - اكمل بكتابة الأعداد المناسبة :

$$420 = . + 20$$

$$376 = . + . + 6$$

$$500 = 100 + 200 + .$$

4 - أخذ محمد من أبيه 98 ديناراً ، اشترى لعبة بـ 45 ديناراً .

- كم ديناراً يرجع لأبيه ؟

--	----------------