

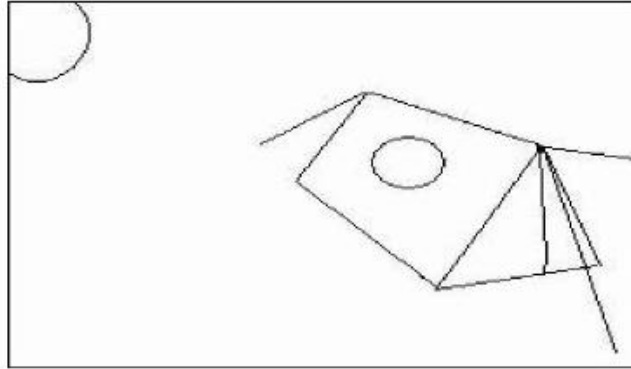
العدد الرتبي

تقييم توجيهي في الإيقاظ العلمي  
السنة السادسة

الاسم واللقب

### السند الأول

في غيم كسفي تسرب نور الشمس إلى الخيمة فاستيقظ الأطفال لبدء يوم جديد.  
**التعليمية 1** : أرسم مسار الضوء الممكن أن يتسرب من خلال الفتحة داخل الخيمة.



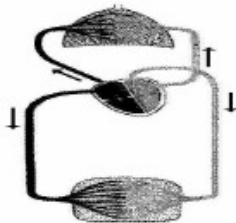
أعلل رسمي :

بعد الإفطار ذهب الأطفال للسباحة في البحر فصاح فراس : "انظروا إنها سميكات تسبح في الماء"  
**التعليمية 2** : كيف تمكّن فراس من رؤية الأسماك ؟

تكوّن فطور الصباح من: خبز وجبن ومربي وحليب وتفاحة وكاس عصير برتقال لكل كشاف  
**التعليمية 3** : أصنف هذه الأغذية في الجدول التالي

أغذية توفر الطاقة	أغذية نمو	أغذية وقاية

بعد ان مارس الاطفال العابا رياضية شاطئية أجروا حوارا حول دور الرياضة في تنشيط الدورة الدموية



أراد كشاف أن يرسم اتجاه دوران الدم في الدورة الدموية الصغرى بواسطة أسهم. فاقترح الرسم التالي :  
**التعليمية 7** : أضع العلامة (X) في الخانة المناسبة.  
رسم الأسهم صحيح  رسم الأسهم خاطئ

أعلل إجابتي:.....

**في الليل** شاهد الاطفال شريطا وثائقيا حول الصيد العشوائي للحيوانات في غابات إفريقيا . وتعرفوا أن الصيادين يعتمدون قتل النمر من أجل بيع فرائها الثمينة .  
النمر من السنوريات التي تتغذى على الحيوانات الأخرى .  
**التعليمية 1 :** أحيط الحيوان الدخيل من بين الحيوانات التالية وأسطبه :  
الفهد . اللبوة . الثمساح . القط البري

تحصل السنوريات على غذائها بواسطة .

مستهلك من درجة أولى

مستهلك من درجة ثانية

مستهلك من درجة ثالثة

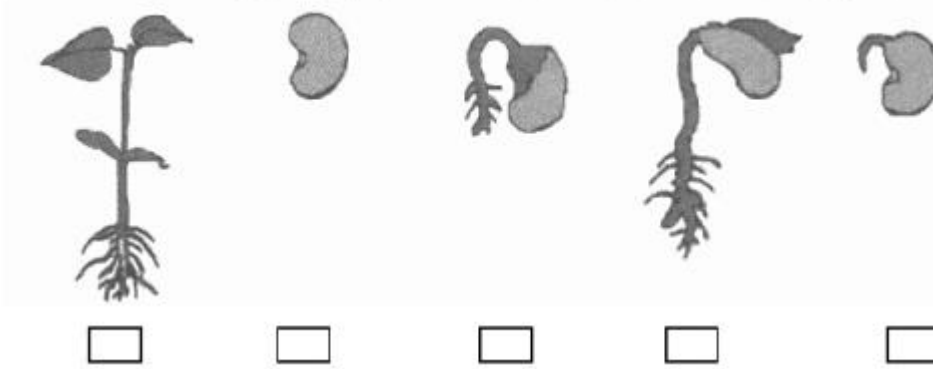
**التعليمية 3 :** أضع العلامة (X) في الخانة المناسبة .

السلسلة الغذائية هي مقوم من مقومات التوازن البيئي .

**التعليمية 5 :** أكوّن سلسلة غذائية بالكائنات التالية :

ثعبان . ضفدعة . فراشة . زهرة

**التعليمية :** أعيد ترتيب مراحل إنبات البذرة التالية باستعمال الأرقام من 1 إلى 5



قيم عملك بإسناد نقطتين عن كل إجابة صحيحة

عددك: 20/...