



www.enajah.tn

النجاح و التميز

## تمارين التجميع المنتظم

حساب  
السنة الأولى

XXXX X	X

1) الأطفال يُعَبِّونَ فِي السَّاحَةِ.

أَنْظُرُ الصُّورَةَ وَأَعْمُرُ الْجَدْوَلَ.






XXXX X	X

أ2) اشترت أمي الخضَرَ.

ألاحظُ الصورةَ وأُعمِّرُ الجدولَ.  
أجمعُ وأُكتبُ العددَ.





www.enajah.tn

النجاح و التميز

3) خَرَجَ سَامِي إِلَى الْحَقْلِ فَوَجَدَ حَلَّازِينَ كَثِيرَةً.

أَجْمَعُهَا سَبْعَةَ سَبْعَةٍ وَأَعْمُرُ الْجُدُولَ.

XXXX X XXX	X





4) هَذِهِ لُعْبٌ سَامِيٌّ

أَرَادَ أَنْ يُضَعَ كُلُّ خَمْسَةِ لُعْبٍ فِي صُنْدُوقٍ.

ب - أَعْمُرُ الْجَدْوَلَ حَسَبَ الْمَطْلُوبِ.

XXX XX	X






X X X X X X X	X

(5) الفيلة في الغابة.

ألاحظ الصورة.

أجمع الفيلة حسب المطلوب وأكتب العدد في الجدول.






(6)

XX XX	X

أَلَا حِظُّ الصُّورَةِ.

أَجْمَعُ النِّحَالَاتِ حَسَبَ الْمَطْلُوبِ وَأَكْتُبُ الْعِدَدَ فِي

الْجَدْوَلِ.






(7) اشترت ريم سميكات الزينة ووضعتها في أحواض بلور.



<p>X X X X X X X X X X</p>	<p>X</p>


أعينها على التجميع حسب المظهر في الحدهك  
وأكتب العدد المناسب.





(8) أَلْحِظُ الْأَشْكَالَ الْهَنْدَسِيَّةَ  
أَجْمَعُ حَسَبَ الْجَدْوَلِ وَأَكْتُبُ الْعِدَدَ الْمُنَاسِبَ.


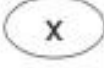






www.enajah.tn  
النجاح و التميز

9) أكوّن باقات الأزهار حسب التجميع الموجود بالجدول.



	
3	1






www.enajah.tn  
النجاح و التميز

10) أكوّن باقات الأزهار.  
حسب التجميع الموجود بالجدول.

	
2	3





1) دَخَلَ أَحْمَدُ وَسَلِمَى وَرَامِيَ الزَّرِيْبَةَ.  
قَامَ كُلُّ مِنْهُمْ بِحِسَابِ مَا فِي الزَّرِيْبَةِ فِي جَدْوَلٍ خَاصٍّ بِهِ.  
أَعْمَرَ مَعَهُمُ الْفَرَاعَاتِ الْمَوْجُودَةَ بِجَدْوَلٍ كُلِّ وَاحِدٍ مِنْهُمْ.

2	1			1	3
		1	3		
1	2			1	1
		2	2		
4	2			3	2

7 دَجَاجَاتٍ

8 بَطَّاتٍ

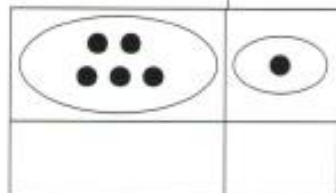
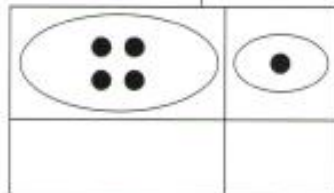
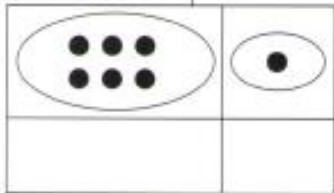
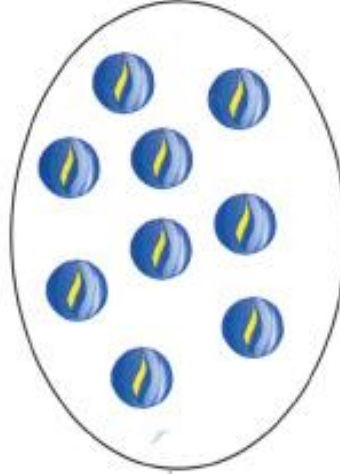
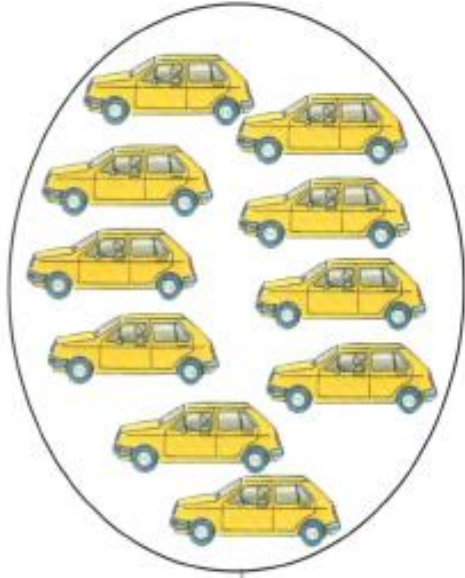
5 دِيكَةٍ

12 أَرْنَبًا

14 فَرُخَ دَجَاجٍ



(2) لسامي مجموعة لعب  
الأحظ الصور وأجمع حسب الالفته ثم أكتب العدد.



أكمل الجمل










عدد التفاحات ..... من عدد الكجات.

عدد الكجات ..... من عدد السيارات.












(1)

خَدِجَةٌ فِي ضَيْعَتِهَا تَجْمَعُ مَا تَحْتَاجُ إِلَيْهِ.  
أَجْمَعُ مَعَهَا وَأَكْتُبُ فِي الْجَدْوَلِ.

		جَمَعَتِ الْبَيْضَاتِ أَرْبَعَةَ أَرْبَعَةَ 
		جَمَعَتِ الْخَرْشُوفَ ثَلَاثَةَ ثَلَاثَةَ 
		جَمَعَتِ الْجَزَرَ ثَمَانِيَةَ ثَمَانِيَةَ 

(2) فِي قِسْمِنَا نَصُورٌ حَسَبَ جَدَاوِلِ الْحِسَابِ ثُمَّ نَلُونُ.

			
		1	2
			
		1	0
			
		0	5