



www.enajah.tn

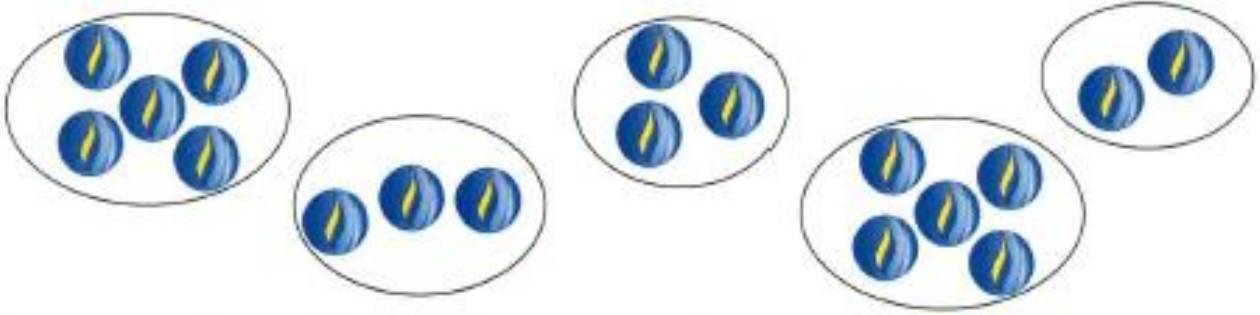
النجاح و التميّز

تمارين مقارنة مجموعتين

المجموعات

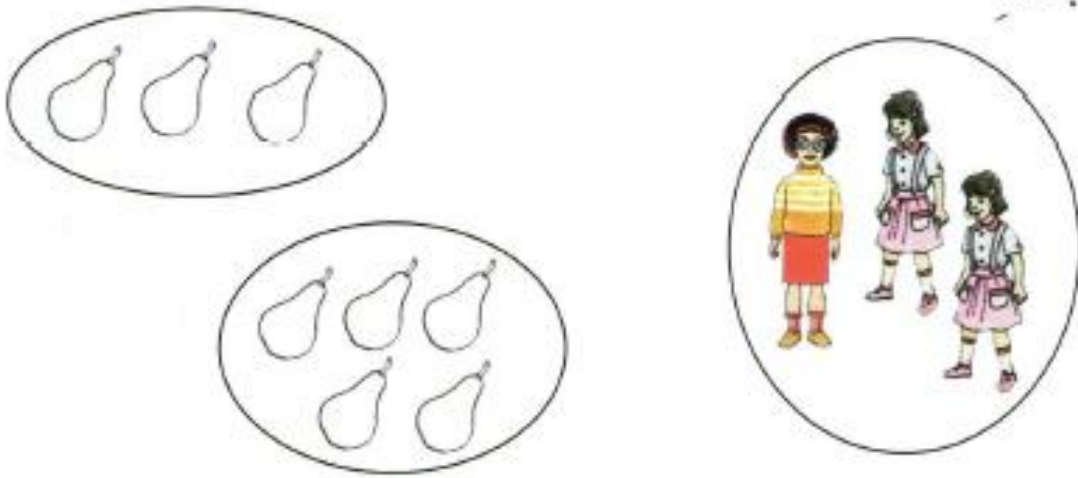
السنة الأولى

1) وَضَعَ رَامِي كُجَاتِهِ فِي أَكْيَاسٍ.
- أَرَبِّطُ بِخَطِّ كُلِّ مَجْمُوعَةٍ عَنَاصِرَهَا عَلَى قَدْرِ عَنَاصِرِ مَجْمُوعَةٍ أُخْرَى.



2) وَزَعَتْ سَلْمَى مَجْمُوعَةَ إِجَاصَاتٍ عَلَى صَدِيقَاتِهَا فَسَلَّمَتْ إِجَاصَةً لِكُلِّ
وَاحِدَةٍ.

- أَلَوْنُ عَنَاصِرِ مَجْمُوعَةِ إِجَاصَاتِ التِّي هِيَ عَلَى قَدْرِ عَنَاصِرِ مَجْمُوعَةِ
الْبَنَاتِ.





www.enajah.tn

النجاح و التميز

3) كُرَّةٌ وَاحِدَةٌ لِكُلِّ لَاعِبٍ.

- أَضَعُ عِلَامَةً (X) تَحْتَ الْكَيْسِ الَّذِي بِهِ كُرَاتٌ عَلَى قَدْرِ اللَّاعِبِينَ.



4) فِي مَبَارَاةِ مَدْرَسِيَّةٍ تَبَارَى أَطْفَالٌ فِي عَقْدِ الْحَبَالِ.

- أَلَوْنُ حَبْلِ الطِّفْلِ الْفَائِزِ.






www.enajah.tn

النجاح و التميز

5) لِسَلِّمِي وَرَامِي نَفَاحَاتٍ مُخْتَلِفَةً الْأَلْوَانِ.
- أَضَعُ عَلَامَةً (X) فِي الْإِطَارِ لِمَنْ يَحْمِلُ أَكْثَرَ نَفَاحَاتٍ.

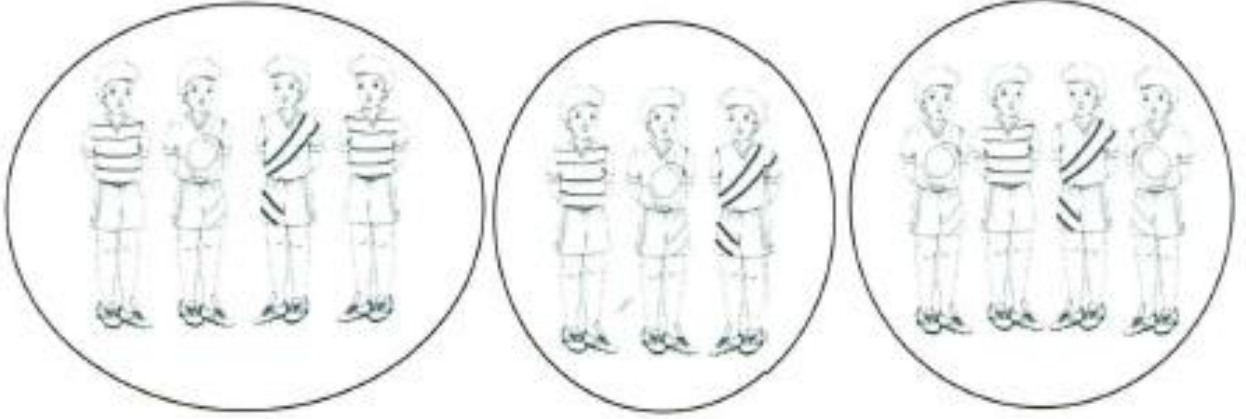




www.enajah.tn

النجاح و التميز

6) تَجَمَّعَ الْأَطْفَالُ لِلْعِبِّ فَكُونُوا ثَلَاثَ مَجْمُوعَاتٍ لَهَا نَفْسٌ عَدَدِ الْعُنَاصِرِ.
سَمِعَ رَامِي نِدَاءَ أُمِّهِ فَذَهَبَ إِلَيْهَا.
- أَلْوَنُ عُنَاصِرِ الْمَجْمُوعَةِ الَّتِي انْتَمَى إِلَيْهَا رَامِي.



7) سَلِمَى قَنْوَعَةً، أَخَذَتِ الْعُنُقُودَ الَّتِي بِهِ أَقْلُ حَبَّاتِ عِنَبٍ.
- أَلْوَنُ هَذَا الْعُنُقُودِ.





www.enajah.tn

النجاح و التميز

(8) فِي الْقُنِّ دَجَاجَتَانِ. كُلُّ دَجَاجَةٍ فِي عَشِّ تَحْضُنُ بِيضَهَا.
الْوَنُّ بِالْأَحْمَرِ الدَّجَاجَةُ الَّتِي تَحْضُنُ بِيضًا أَكْثَرَ.



(9) فِي عِيدِ الْأُمَّهَاتِ أَهْدَى الْأَخْوَانَ رَامِي
وَسَلَّمِي لِأُمَّهَمَا بَاقَتَيْنِ مِنَ الْأَزْهَارِ.
– الْوَنُّ الْمِزْهَرِيَّةُ الَّتِي بِهَا أَقَلُّ عَدَدٍ مِنَ
الْأَزْهَارِ.



(10) لِرَامِي مَجْمُوعَةَ الْأَقْلَامِ التَّالِيَةِ وَالْقُرْصِ الْمَلُونِ.
ارْبِطْ كُلَّ لَوْنٍ فِي الْقُرْصِ بِالْقَلَمِ الْمُنَاسِبِ.





www.enajah.tn

النجاح و التميز

- 1) لَعِبَ الْأَطْفَالُ بِرَغْوَةٍ الصَّابُونَ لِتَكْوِينِ فِقَاقِيَعٍ.
أ - أَحْيَيْطُ بِخَطِّ مُغْلَقٍ مَجْمُوعَةً فِقَاقِيَعٍ كُلُّ طِفْلٍ وَأَكْتُبُ كَمَهَا بِاللَّافَةِ.
ب - أَلَوْنُ بِالْأَحْمَرِ عَنَّا صِرَ الْمَجْمُوعَةَ الْأَكْثَرَ فِقَاقِيَعٍ.
ج - أَرَبُّطُ بِخَطِّ بَيْنَ الْمَجْمُوعَتَيْنِ اللَّتَيْنِ لِهَمَّا نَفْسُ الْكَمِّ.






www.enajah.tn

النجاح و التميز

(2) احْتَفَلَ الْأَصْدِقَاءُ الثَّلَاثَةُ رَامِي وَسَلْمَى وَسَامِي بِعِيدِ مِيلَادِهِمْ فَأَطْفَأَ كُلُّ
طِفْلٍ مَجْمُوعَةً مِنَ الشُّمُوعِ.

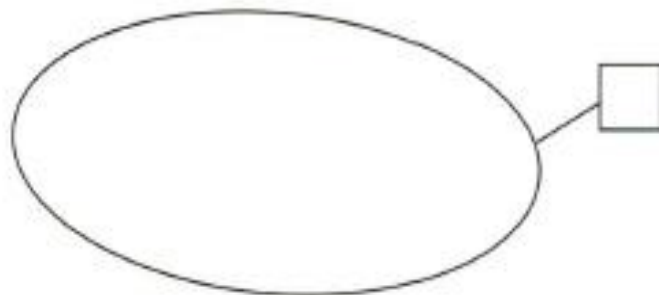


1 - اكتب كم كل مجموعة باللائحة.

2 - ألون لائحة المجموعة التي بها أقل عدد من الشموع.

3) قالت صديقة سلمى : عمري على قدر عدد الشموع المضيئة.

أمثل مجموعة الشموع المضيئة وأكتب كمها باللائحة.













www.enajah.tn

النجاح و التميز

1) أمُّ رامي تَتَفَقَّدُ دَجَاجَتِهَا.

أ) أَلْوَنُ النُّجُومِ أَمَامَ كُلِّ دَجَاجَةٍ عَى قَدْرِ عَدَدِ البَيْضَاتِ.

ب) أَلْوَنُ الدَّجَاجَةِ الَّتِي بِجَانِبِهَا أَكْثَرُ عَدَدٍ مِنَ البَيْضِ.



www.enajah.tn

النجاح و التميز

2) وَقَعَتْ فِي شَبَكَةِ رَامِي مَجْمُوعَةٌ أَسْمَاكِ وَضَفَادِعَ.

أ) أَكُونُ مَجْمُوعَتَيْنِ حَسَبَ النَّوْعِ.

ب) أَلَوْنُ الْمَجْمُوعَةِ الَّتِي عَنَّا صَرُّهَا أَقْلٌ.





www.enajah.tn

النجاح و التميز

3) لِسْمَى أَكْثَرُ نَفَاحَاتٍ مِنْ رِيَمٍ.
لِبَسْمَةَ أَكْثَرُ نَفَاحَاتٍ مِنْ سَلْمَى.

أَرْبِطُ كُلَّ بَنِيَّةٍ بِاسْمِهَا فِي اللَّافِتَةِ.



رِيَمُ

سَلْمَى

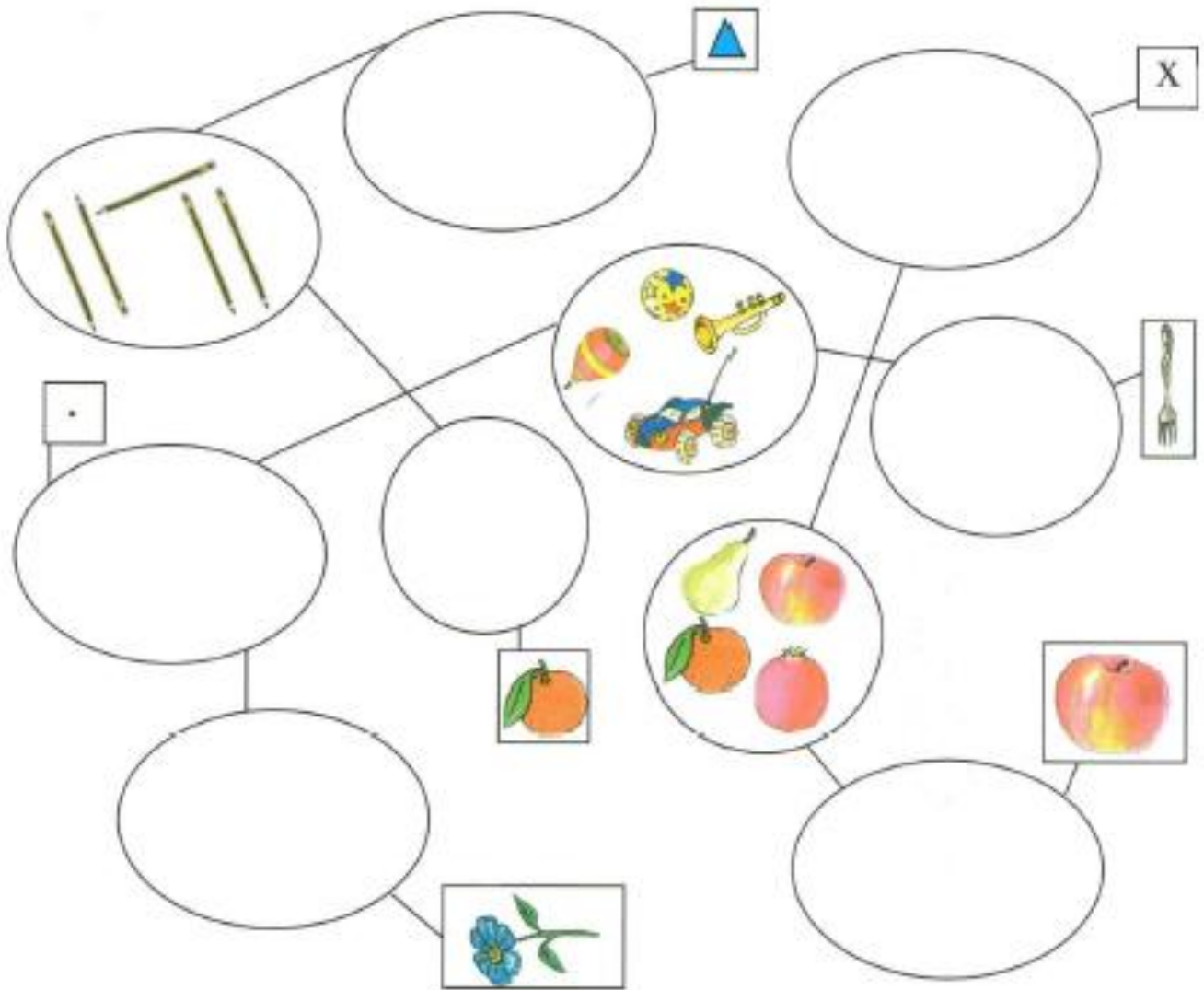
بِسْمَةَ



www.enajah.tn

النجاح و التميز

4) أكمل الرسم مع رأمي حسب العلاقة.
المجموعات المترابطة لها نفس عدد العناصر.





www.enajah.tn

النجاح و التميز

5) اربط بين كل دجاجة وبين حسب العلاقة.
... لي بيضتان أكثر منك.

